

## “La familia se va al cine”

La familia de Luis y Elena (su padre, su madre, su hermano mayor y ellos) quiere ir esta semana al “Cine Poligonal” y están mirando la información.

### CINE “POLIGONAL”

#### INFORMACIÓN



Centro Comercial Monteverde 2  
Autopista del Norte, Salida 16  
38342 La Villa Norte



Sesiones normales: de 16:00 a 22:00 horas.  
Matinales: sábados y festivos.  
Madrugadas: viernes, sábados, domingos y vísperas de festivos.  
Numeradas: viernes sesiones 20:00 y 22:00 horas.  
sábados y festivos entre 16:00 y 22:30 horas




12 pantallas. Salas en Grada.



2 372 Butacas y 44 Espacios Minusválidos. Aforo total 2 416 personas.

#### LISTA DE PRECIOS

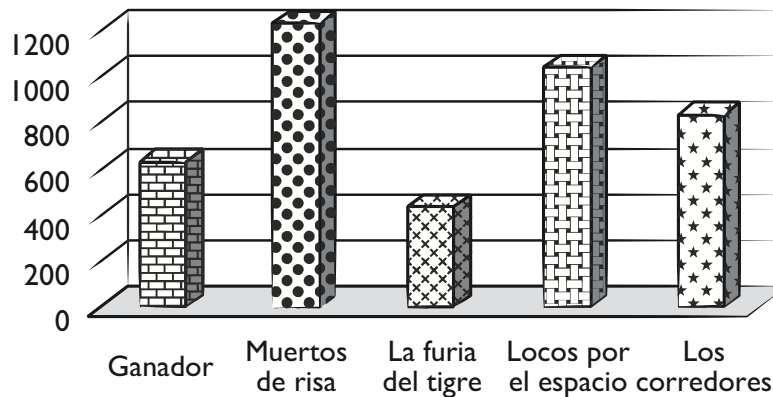


Precio normal: 6,50 €  
Lunes NO FESTIVOS: 5,30 €  
Mañanas: 5,30€  
Sesiones antes de las 17:00 h.: 5,40 €  
Madrugadas: 5,40 €  
Carné Joven/Estudiante, Menores 13 años y Mayores 65: 5,40 €

1. La familia quiere gastar lo menos posible en las entradas. ¿Qué sesiones les saldrán más baratas?

- A. Menores de 13 años
- B. Mañanas
- C. Madrugada
- D. Sesiones anteriores a las 17:00 horas
- E. Lunes no festivos

2. Esta es la gráfica con las películas más vistas en el cine durante la última semana.



A. ¿Qué película ha visto mayor número de personas?

.....

B. ¿Qué película ha sido la menos vista?

.....

C. ¿Cuántas películas figuran en la gráfica?

.....


D. ¿Qué película ha sido vista por 800 personas?

.....

3. La familia acuerda ir al cine el lunes por la tarde después de las 5, cuando hayan salido del colegio y del trabajo.

Vuelven a mirar los precios de las entradas.

#### LISTA DE PRECIOS



Precio normal: 6,50 €

Lunes NO FESTIVOS: 5,30 €

Mañanas: 5,30€

Sesiones antes de las 17:00 h.: 5,40 €

Madrugadas: 5,40 €

Carné Joven/Estudiante, Menores 13 años y Mayores 65: 5,40 €

Al llegar al cine, su madre entrega un billete de 50 euros a la taquillera, ¿qué cantidad le devolverá?:

A. 102,50 euros

B. 23 euros

C. 7 euros

D. 23,50 euros

4. ¡Fíjate qué bonitas son las entradas del cine!



Escribe el nombre de todas las figuras geométricas que encuentres en ella:

.....

.....

.....

5. Antes de entrar a la sala deciden comprar cuatro latas de refresco de cuarto de litro cada una y cinco paquetes de palomitas de 100 gramos cada paquete.

5.1. ¿Cuántos litros de refresco compran entre los cinco?

- A. Medio litro de refresco.      B. Un litro de refresco.  
C. Dos litros de refresco.      D. Un litro y medio de refresco.



5.2. ¿Qué cantidad de palomitas compran entre los cinco?

- A. Un kilo de palomitas de maíz.      B. Tres cuartos kilos de palomitas de maíz.  
C. Dos kilos de palomitas de maíz.      D. Medio kilo de palomitas de maíz.

