



CONSEJERÍA DE EDUCACIÓN,  
JUVENTUD Y DEPORTE

**Comunidad de Madrid**

**PRUEBA LEA**  
**(LECTURA, ESCRITURA Y ARITMÉTICA)**  
**2º PRIMARIA**

**JUNIO 2014**

**LA INFORMACIÓN DE ESTE RECUADRO  
DEBE SER CUMPLIMENTADA POR EL CENTRO**

Clave del centro:

Número del alumno:

I

No presentado

Centro bilingüe en 2º

SÍ

NO

Sexo

VARÓN

MUJER

Año de nacimiento

**NO PUEDES PASAR LA HOJA HASTA QUE TE LO DIGAN.**



**PRUEBA DE LENGUA CASTELLANA Y LITERATURA**  
(Escrita)

1. Dictado.

---

---

---

---

---

---


---

---

---

---

2. Escribe lo que sucede en esta historia.



---

---

---

---

---

---

---

---

3. Escribe una oración de al menos 7 palabras que contenga las siguientes :

nuestro

ayer

---

---

---

---

## PRUEBA ESCRITA DE MATEMÁTICAS

### Numeración

1. Escribe en letras los números:

326

620

2. Escribe con números:

Doscientos cuarenta y dos

Quinientos ocho

### Operaciones

3. Suma:

$$246 + 38 =$$

	.....
+	.....
	-----
	.....

4. Resta:

$$584 - 263 =$$

	.....
-	.....
	-----
	.....

5. Multiplica:

<b>7 X 9 =</b>	$  \begin{array}{r}  \dots\dots\dots \\  \dots\dots\dots \\  \hline  \dots\dots\dots  \end{array}  $
X	

<b>Problemas</b>
------------------

6. Resuelve:

Tengo 53 céntimos y me compro un lápiz que cuesta 27 céntimos. Después de pagar, ¿cuánto dinero me queda?

Operación:	Solución:
------------	-----------

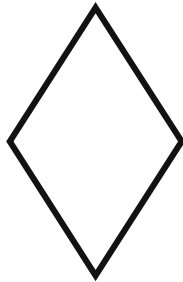
7. Resuelve:

Un paquete de bombones cuesta 12 €. ¿Cuántos euros costarán 4 paquetes de bombones?

Operación:	Solución:
------------	-----------

## Geometría

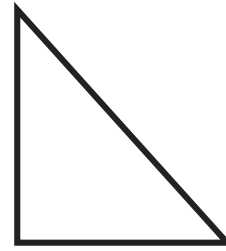
8. Escribe el nombre de las siguientes figuras geométricas.




\_\_\_\_\_



\_\_\_\_\_



\_\_\_\_\_



\_\_\_\_\_

## Tratamiento de la información

9. Resuelve:

La tabla explica lo que han pintado tres alumnos en una clase:

ALUMNOS	DIBUJO DE ANIMALES	DIBUJO DE PAISAJES	DIBUJO DE CIUDAD
Teresa	1	2	1
Ana	3	0	2
Pedro	1	4	1

Contesta SI o NO a las siguientes preguntas:

- ¿Teresa ha pintado más dibujos de animales que Ana?
- ¿Ana es la que menos dibujos ha pintado?
- ¿Pedro es el que ha pintado más dibujos de paisajes?
- ¿Pedro y Teresa han pintado entre los dos 7 dibujos de animales?