

Cód.Centro:

Grupo:

N.º de lista PINCEL:

N.º registro:

N.º CIAL:

Evaluación de Diagnóstico Tercero de Primaria

SEGUNDA SESIÓN 2015-2016

COMPETENCIA MATEMÁTICA

SOLO A CUMPLIMENTAR EN CASO DE QUE EL ALUMNO O LA ALUMNA NO REALICE
ALGUNA DE LAS SESIONES DE LA PRUEBA

- El aplicador o la aplicadora marcará un **NO** en la sesión correspondiente no realizada.
- Si en cualquier otro momento, dentro del periodo de aplicación, el alumno o la alumna realizara dicha sesión, se marcará un **Sí**.
- En caso de que haya sido imposible realizarla, se colocará la prueba incompleta (los dos cuadernillos) en un sobre distinto al resto del grupo, indicando en el exterior del mismo: "**PRUEBAS INCOMPLETAS**".

SEGUNDA SESIÓN

NO

Sí

INSTRUCCIONES



En este cuadernillo vas a responder a una serie de preguntas de diferente clase. Lee atentamente estas instrucciones para comprender bien qué es lo que tienes que hacer.

1. En unas preguntas deberás **marcar con una X** la respuesta que consideres más adecuada.

EJEMPLO:

1.a La primavera es:

Una comida.

Una estación del año.

Si te equivocas o decides cambiar la respuesta a la pregunta, deberás **tachar** tu primera elección y marcar con una **X** la respuesta correcta.

EJEMPLO:

1.b La primavera es:

Una comida.



Una comida.

Una estación del año.



Una estación del año.

2. En otras preguntas deberás responder escribiendo lo que se te pide.

EJEMPLO:

2.a ¿Cuál es tu color preferido?

El rojo

Si decides cambiar la respuesta a la pregunta, deberás tachar lo que consideres incorrecto y escribir a continuación la respuesta correcta.

EJEMPLO:

2.b ¿Cuál es tu color preferido?

~~El rojo~~ El azul

"LAS TIENDAS DEL ZOO"

Se acerca la hora de comer, Luis con sus amigos y amigas, van al puesto de bocadillos y al de los helados.

La maestra compra un bocadillo y un zumo para cada uno y para cada una y, de postre, un helado.



11. Después de elegir, la maestra pagó lo siguiente:

Bocadillos y zumos: 81€

Helados: 37€

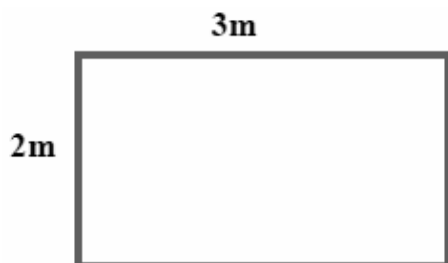
- ¿Cuánto dinero crees que se gastó la maestra aproximando a las decenas?

81 €	→	_____
37 €	→	_____


Gastó aproximadamente: _____ €

- Si pagó con 150 €, ¿le sobró dinero? Sí No

12. Con la comida se dirigen a la zona del césped y la maestra les da un mantel con las siguientes medidas. Si quieren decorar el mantel con una cinta alrededor ¿cuántos metros de cinta necesitan?






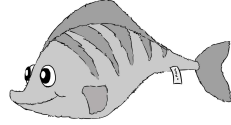
OPERACIONES



Razona tu respuesta:



13. Después de almorzar, todo el grupo decide ir a la tienda de los peluches y hacer unas compras.

			
9 €	10 €	11 €	5 €

Ayúdales a calcular el total de la compra:

15 elefantes: _____

7 leones: _____

6 delfines: _____

14 peces: _____

Total de la compra: _____

14. Después de las compras, se reúnen para visitar las oficinas del director del zoo y ver qué trabajos se hacen allí. Cuando llegan, ven que el director está haciendo un recuento de ventas de peluches.


Lunes	Martes	Miércoles	Jueves	Viernes	Sábado	Domingo
15	10	25	25	35	50	45

Colorea el número de peluches que se vende cada día en el zoo (como ejemplo está coloreado el número de peluches que se han vendido el viernes).

50							
45							
40							
35							
30							
25							
20							
15							
10							
5							
	LUNES	MARTES	MIÉRCOLES	JUEVES	VIERNES	SÁBADO	DOMINGO

15. Ya es la hora de irse, así que empiezan el camino de regreso a la guagua. El recorrido hasta la guagua es de 100 m.

La maestra les dice que a la mitad del camino hay una tienda de golosinas y, como se han portado muy bien, pararán un momento para comprar una bolsita de caramelos para cada uno de los niños y de las niñas.



¿Cuántos metros deberán caminar para llegar a la tienda de golosinas?

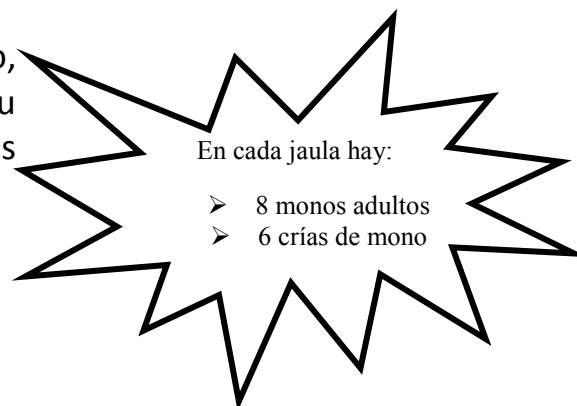
Marca con una X si es verdadero (V) o falso (F) lo que han dicho:

	V	F
Tengo que calcular la mitad de 100 m	<input type="checkbox"/>	<input type="checkbox"/>
Multiplico 100 x 2	<input type="checkbox"/>	<input type="checkbox"/>
Divido 100 : 2	<input type="checkbox"/>	<input type="checkbox"/>
El resultado es 50 Km	<input type="checkbox"/>	<input type="checkbox"/>

"LA ENFERMERÍA DEL ZOO"


La veterinaria de la enfermería del zoo, les explica a los niños y niñas que en su consulta hay 6 jaulas para los monos adultos y 6 para las crías.

Fíjate en el siguiente cartel.

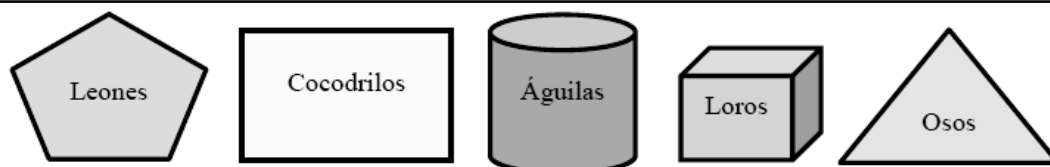


16. ¿Cuántos animales hay en la enfermería?

- 48 monos adultos y 36 crías
- 14 monos adultos y 36 crías
- 14 monos adultos y 12 crías
- 48 monos adultos y 12 crías







17. La veterinaria les cuenta que las crías están en unas jaulas con formas especiales.



Lee con atención y marca con una X si es verdadero o falso:

	V	F
La jaula de los osos tiene forma de triángulo	<input type="checkbox"/>	<input type="checkbox"/>
La jaula de los leones tiene forma de hexágono	<input type="checkbox"/>	<input type="checkbox"/>
La jaula de los cocodrilos tiene forma de cubo	<input type="checkbox"/>	<input type="checkbox"/>
La jaula de águilas tiene forma de cilindro	<input type="checkbox"/>	<input type="checkbox"/>
La jaula de los loros tiene forma de cuadrado	<input type="checkbox"/>	<input type="checkbox"/>

18. La directora de la enfermería nos enseña lo que cuestan las medicinas de los animales en un año (monos, rinocerontes, leones y papagayos). Fíjate en la siguiente tabla.

Medicinas para...	Precio
	4.532 €
	8.750 €
	9.432 €
	3.500 €

Este año acuerdan pagar las facturas de **menor a mayor** importe pero se han olvidado de incluir el precio de las medicinas de las **jirafas, 6.435€**. ¿Puedes ayudarles a ordenar los precios de las facturas?

Medicinas para...	Precio

























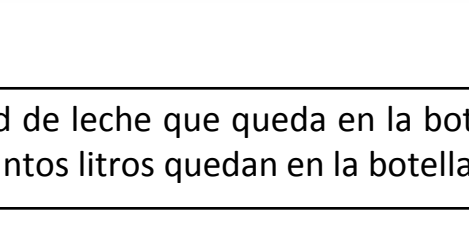


19. La cuidadora de los animales le dice a Luis y a Yaiza que recibirán 2 € por cada biberón que den a cada cría.

Si dan 15 biberones ¿cuánto dinero le faltará a Laura y a Luis para tener 50 €?


Marca con una X la respuesta correcta



<input type="checkbox"/>					
<input type="checkbox"/>					
<input type="checkbox"/>					
<input type="checkbox"/>					
<input type="checkbox"/>					

20. En la enfermería quieren saber la cantidad de leche que queda en la botella, si la cría de mono se ha tomado $\frac{3}{4}$ de litro, ¿cuántos litros quedan en la botella?

- 750 gramos
- $\frac{1}{4}$ de litro
- 300 gramos
- $\frac{1}{2}$ litro





Ya has acabado la prueba: *Revisa tus respuestas para comprobar que...*

- *Te ha quedado como querías.*
- *Se entiende todo.*

Luego entrégala a tu maestra o maestro.

