

LESO2

2016/2017



Nombre y apellidos:

Centro escolar:

Grupo/Aula:

Localidad:

Fecha:

Comprensión Lectora

2º de ESO

Instrucciones

En esta prueba vas a leer una serie de textos y a responder a preguntas sobre lo que has leído.

Te encontrarás con distintos tipos de preguntas. Algunas tendrán cuatro posibles respuestas y, en ellas, tienes que elegir la correcta y rodear la letra que se encuentre junto a ella. Por ejemplo:

¿Cuántos habitantes tiene Pamplona?

- A. Tantos como Barcelona.
- B. Unos 200 000.
- C. Un millón.
- D. Varios millones.

Si decides cambiar la respuesta, tacha con una **X** tu primera elección y rodea la respuesta correcta, tal como se muestra en el ejemplo:

¿Cuántos habitantes tiene Pamplona?

- A. Tantos como Barcelona.
- B. Unos 200 000.
- C. Un millón.
- D. Varios millones.

En otras preguntas te pedirán que contestes si es verdadero (V) o falso (F) o bien que escribas la respuesta en el espacio señalado con puntos:

¿Qué es lo más conocido de Pamplona?

.....

Unas preguntas son más sencillas y otras son más difíciles. Si no entiendes alguna pregunta puedes continuar y luego volver a intentarlo.



Tienes 60 minutos para hacer esta prueba.



Foca. ©Aquarium Biarritz

AQUARIUM DE BIARRITZ

uno de los mayores aquariums de Francia

En el corazón de Biarritz, el **Museo del Mar**, joya del estilo Art Déco, propone un viaje fascinante a través de los océanos, remontando la Corriente del Golfo desde el Golfo de Vizcaya hasta el Océano Pacífico pasando por el Mar Caribe.

Después de admirar los sorprendentes **caballitos de mar, las medusas, las tortugas, el pulpo y muchos otros peces representativos del Cantábrico** y de descubrir las colecciones del museo (instrumentos

de navegación, maquetas, esqueletos...), llegas a la terraza panorámica.

Allí, están **las focas**, las verdaderas estrellas de Biarritz: verlas dormir, comer, nadar, jugar... ¡es un verdadero placer! No te pierdas la famosa comida diaria (a las 10h30 o a las 17h)... ¡Un momento mágico que seduce cada año a miles de niños pequeños y grandes!

Si un día has deseado poder tocar, acariciar, hacer cos-

quillas a las estrellas de mar, erizos y otras especies de nuestras aguas... ¡Aquí está el **estanque táctil!**

La odisea sigue... Un **manglar** reconstituido con sus habitantes (peces volantes, rayas guitarras...) te transportan a miles de kilómetros de la Costa Vasca...

Te quedas impresionado delante de la vida de la **laguna tropical**: unos arrecifes de coral con peces payasos, anémonas, peces empera-

dores y muchos más con colores originales y formas imprevisibles ¡Un auténtico ballet del color!

Al terminar la visita, vives unos encuentros excepcionales: un acuario gigante, alto como un edificio de 3 plantas (1500 m³) donde viven más de 30 tiburones, barracudas y rayas... 7 especies de tiburones, entre ellos los asombrosos tiburones-martillos.

¡Una vista panorámica espectacular!

Para más información

INFORMACIÓN PRÁCTICA:


Abierto todos los días

Esplanade du Rocher de la Vierge
64200 Biarritz
+33 (0)5 59 22 33 34
www.aquariumbiarritz.com
contact@biarritzocean.com

TARIFAS:

Adultos: 14,50 €
Niños (4/16 años): 9,80 €
Estudiantes: 10,50 €

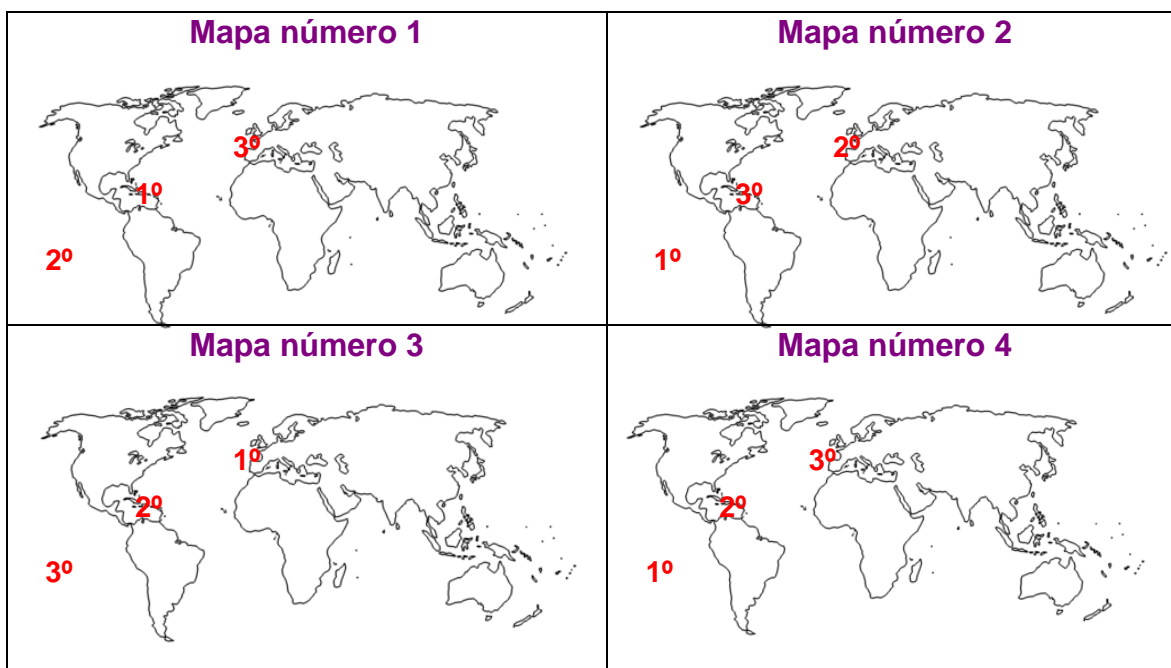
• Entrada Combinada:
Aquarium + Cité de l'Océan
Adulto 18,30 €
Estudiante 14 €
Niño (de 6 a 16 años) 13 €



Tiburón martillo.
©Aquarium Biarritz

1. Los números que aparecen en los siguientes mapas señalan los espacios naturales y el orden en que se visitan en el Aquarium de Biarritz. ¿Qué mapa refleja el orden de la visita al mencionado Aquarium?

- A. Mapa número 1.
- B. Mapa número 2.
- C. Mapa número 3.
- D. Mapa número 4.



2. Además de ver animales y objetos que se exhiben en el Aquarium, ¿qué se puede hacer durante la visita?

- A. Se puede jugar con las focas.
- B. Se puede acariciar a los delfines.
- C. Se puede dar de comer a las focas.
- D. Se puede tocar a los erizos.

3. ¿Por qué el autor identifica la estancia en el Aquarium con una “odisea”?

- A. Porque se parece a un viaje por el mundo.
- B. Porque se ven animales exóticos.
- C. Porque se aprende mucho sobre animales marinos.
- D. Porque es una experiencia inolvidable.

4. ¿Cuál de los siguientes animales podremos ver en la visita a la zona dedicada al Mar Cantábrico?

A.



B.



C.



D.



5. ¿Cuánto cuesta la entrada combinada más barata para una estudiante de 15 años?

A. 14 €.

B. 13 €.

C. 9,80 €.

D. 10,50 €.

6. La entrada combinada es "Aquarium + Cité de l'Océan". ¿En qué consiste "Cité de l'Océan"?

A. En un acuario gigante, amplio como un edificio.

B. En una laguna tropical.

C. No se especifica.

D. En una terraza panorámica.

7. En el texto se dice: "¡Un momento mágico que seduce cada año a miles de niños pequeños y grandes!". Según esto, ¿qué tipo de público sería el idóneo para este aquarium?

A. Personas de 4 a 16 años.

B. Todos los niños.

C. Personas interesadas en la vida marítima.

D. Personas de todas las edades.

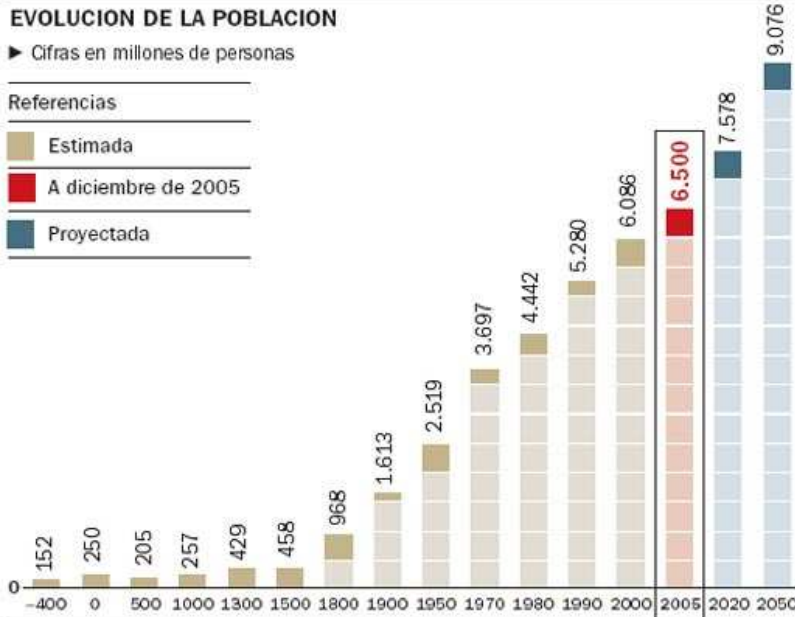
El estado de la población mundial

EVOLUCION DE LA POBLACION

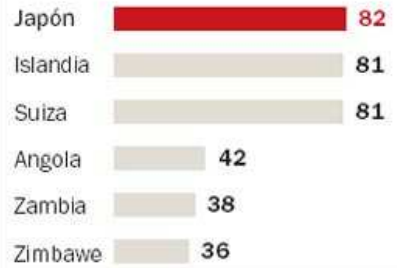
► Cifras en millones de personas

Referencias

- Estimada
- A diciembre de 2005
- Proyectada



EXPECTATIVA DE VIDA




AUMENTO DE LA POBLACION

210.000 personas por día

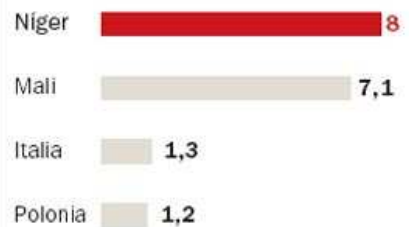
PERSONAS SIN AGUA POTABLE

1.100 millones en el mundo
77 millones en latinoamérica

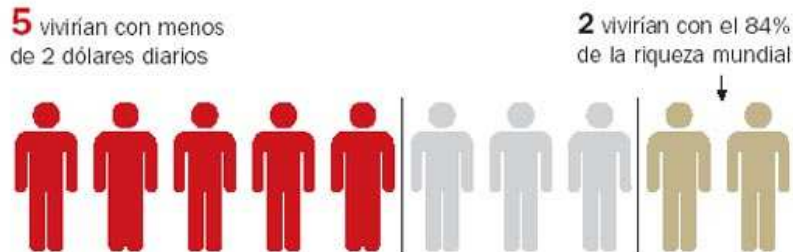
POBLACION SI EN EL MUNDO HUBIERA 10 PERSONAS, SERIAN...



HUJOS POR MUJER

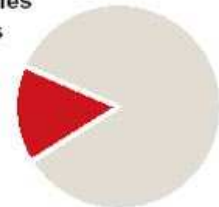


RIQUEZA SI EN EL MUNDO HUBIERA 10 PERSONAS...



ANALFABETOS

1.000 millones de personas
15,4% de la población mundial



Fuente INSTITUTO DEMOGRAFICO DE FRANCIA | ONU | AFP

CLARIN

8. Indica si los siguientes enunciados son verdaderos (V) o falsos (F).

	V	F
En África el promedio de expectativa de vida es aproximadamente la mitad que en el resto del mundo.		
En Europa la expectativa de vida ronda los 80 años.		
Los japoneses son los que tienen una expectativa de vida más corta.		
En el continente donde la esperanza de vida es más corta, el número de hijos es mayor.		


- 9. ¿En qué dos países está disminuyendo su población atendiendo a su índice de natalidad?**
- A. Zambia y Zimbabwe.
 - B. Italia y Polonia.
 - C. Níger y Mali.
 - D. Japón e Islandia.

- 10. Indica si los siguientes enunciados son verdaderos (V) o falsos (F).**

	V	F
La mayor parte de la población mundial es africana.		
La mitad de la población mundial vive con menos de dos dólares diarios.		
Desde el año 0, la población mundial ha crecido ininterrumpidamente.		
El estudio informa sobre la población mundial estimada cada 300 años.		

- 11. En el texto se dice que "si en el mundo hubiera 10 personas, 6 serían asiáticas". ¿De qué tres países diferentes de Asia podrían ser?**
- A. China, India y Japón.
 - B. China, India y Mali.
 - C. China, Senegal y Mali.
 - D. China, Rusia y Argelia.
- 12. En el texto se dice que si hubiera en el mundo 10 personas, 5 personas vivirían con 2 dólares y 2 personas con el 84% de la riqueza mundial. ¿Por qué crees que no se ha dado información sobre las tres personas restantes? Selecciona la opción correcta:**
- A. Porque no es relevante para el texto.
 - B. Porque sólo se resaltan las situaciones extremas.
 - C. Porque no tendrían lo necesario para vivir.
 - D. Porque sólo interesa lo que hace la mayoría de las personas.

ACEFALIA



A un señor le cortaron la cabeza, pero como después estalló una huelga y no pudieron enterrarlo, este señor tuvo que seguir viviendo sin cabeza y arreglárselas bien o mal.

En seguida notó que cuatro de los cinco sentidos se le habían ido con la cabeza. Dotado solamente de tacto pero lleno de buena voluntad, el señor se sentó en un banco del parque y tocaba las hojas de los árboles una por una tratando de distinguirlas y nombrarlas. Así al cabo de varios días pudo tener la

certeza de que había juntado sobre sus rodillas una hoja de eucalipto, una de plátano, una de magnolia y una piedrita verde.

Cuando el señor advirtió que esto último era una piedrita verde, pasó un par de días muy perplejo. Piedra era correcto y posible, pero no verde. Para probar imaginó que la piedra era roja, y en el mismo momento sintió como una profunda repulsión, un rechazo de esa mentira flagrante, de una piedra roja absolutamente falsa ya que la piedra era por completo verde y en forma de disco, muy dulce al tacto.

Cuando se dio cuenta de que además la piedra era dulce, el señor pasó cierto tiempo atacado de gran sorpresa. Después optó por la alegría, lo que siempre es preferible, pues se veía que a semejanza de ciertos insectos que regeneran sus partes cortadas, era capaz de sentir diversamente. Estimulado por el hecho, abandonó el banco del parque y bajó por la calle Mayor hasta la plaza del Ayuntamiento, donde como es sabido proliferan los bares de fritos. Enterado de este detalle que le restituía un nuevo sentido, el señor se encaminó vagamente hacia el este o hacia el oeste, pues de eso no estaba seguro, y anduvo infatigable, esperando de un momento a otro oír alguna cosa, ya que el oído era lo único que le faltaba. En efecto, veía un cielo pálido como de amanecer, tocaba sus propias manos con dedos húmedos y uñas que se hincaban en la piel, olía como a sudor, y en la boca tenía gusto a metal y a coñac. Sólo le faltaba oír y justamente entonces oyó, y fue como un recuerdo, porque lo que oía era otra vez las palabras del capellán de la cárcel, palabras de consuelo y esperanza muy hermosas en sí, lástima que con cierto aire de usadas, de dichas muchas veces, de gastadas a fuerza de sonar y sonar.

Julio Cortázar, *Acefalia* (adaptado)

13. ¿Cuál es el significado de "acefalia"?

.....

14. Completa la siguiente tabla según corresponda a las características de la piedrita.

<i>Sentido</i>	<i>¿Qué percibe?</i>
	Que era en forma de disco
Vista	
	Que era dulce

15. Completa la siguiente tabla según corresponda a las sensaciones que percibe el protagonista en la plaza del Ayuntamiento y a los sentidos que le corresponden.

<i>Sentido</i>	<i>¿Qué percibe?</i>
Vista	
	Sus propias manos
Olfato	
	Metal y coñac

16. ¿Qué momento de su vida revive el señor cuando recupera el oído?

- A. El momento en el que veía un cielo pálido como de amanecer.
- B. Los primeros momentos sin cabeza.
- C. El momento inmediatamente posterior a la sentencia.
- D. Un momento poco antes de ser ejecutado.

17. ¿Por qué le cortaron la cabeza al señor?

- A. Por un accidente.
- B. Por una condena.
- C. Para privarle de los sentidos.
- D. Para escribir un relato.

Num. Billete: 7451800629011

Localizador: 4W7WDS

Tarifa PROMO+

renfe

Combinado Cercanías: PH96V



TRAYECTO 1

Salida	PAMPLONA/I	30/03/2016	07.43
Llegada	ZARAG-DELI	30/03/2016	09.56
R. EXPRES	18074		
Coche	0	Plaza:	000

TRAYECTO 2

Salida	ZARAG-DELI	30/03/2016	10.20
Llegada	SEVILLA SJ	30/03/2016	14.02
AVE	03940		
Coche	30	Plaza:	02B

Total: 64,25 € IVA(10%) 5,84 €
Gastos de gestión: 0.00 €

T. C.: 490*****009

Cierre del acceso al tren 2 minutos antes de la salida

21:44:33 20/03/2016



Tasa de Seguridad, S.O.V., S.R.C. e I.V.A. Incluidos 0805261325 C.I.F.: A86868189

Mantenga la integridad de toda la hoja, sin cortar ninguna de las zonas impresas.

EXTRACTO DE LAS CONDICIONES DE VIAJE

- Este billete constituye su contrato de transporte, consérvelo hasta el final del viaje.
- Es obligatorio presentar los documentos que acrediten descuentos. Los Bonos/Abonos junto a las formalizaciones. Se podrá solicitar un documento de identificación válido.
- Renfe tiene establecidos diferentes compromisos de puntualidad y calidad en todos su trenes, en caso de incumplimiento de estos, tendrá derecho a la indemnización correspondiente.
- Como máximo 3 bultos de equipaje de mano. La suma del peso de los 3 no superará los 25 kg., ni la suma de sus dimensiones los 290 cm. El mayor de ellos no debe superar 85 x 55 x 35 cm.
- También, las sillas y coches portabebé, que deberán ser plegados a bordo. Los instrumentos musicales en una funda y que no superen 30 x 120 x 38 cm. Las bicicletas plegadas y desmontadas en su funda, y sus tres dimensiones no superarán los 180 cm. En trenes de Media Distancia Convencional no es necesario que la bicicleta viaje dentro de una funda.
- Solamente se podrá transportar un equipaje especial por viajero, más un solo equipaje de mano que no supere las dimensiones de 55 x 35 x 25 cm. Para más información www.renfe.com
- Servicio cubierto por S.O.V. y S.R.C.
- Condiciones Generales de los Contratos de Transporte www.renfe.com

renfe

MUTUA MADRILEÑA

Contrata tu seguro de coche o moto con la Mutua y consigue:

hasta **50%** de descuento en tu seguro

hasta **1.300** puntos para viajar en Renfe

Llama ahora y contrata tu póliza en el

902 555 895



Compra tus billetes en www.renfe.com

Tarjeta +renfe

Siga acumulando puntos por sus viajes y acceda a más ventajas en función de su nivel de tarjeta



- Descuentos en billetes
- Atención preferente en puntos de última hora
- Prioridad en el embarque
- En formato PassBook
- Acceso a salas club
- Descuentos en empresas asociadas

Consulte beneficios en función del nivel de su tarjeta. Más información en www.renfe.com y en el 902 42 00 24.



99940 80100-51003 30/03/2016 0-000 VR163 64,25 €
7451800629011 Id. Compra 4W7WDS



18. ¿Qué día se compró el billete?

- A. No se puede saber por la información del texto.
- B. El 30 de marzo de 2016.
- C. El mismo día del viaje.
- D. El 20 de marzo de 2016.

19. Con este billete puedes hacer un viaje...

- A. de ida y vuelta Pamplona – Sevilla.
- B. de ida Pamplona – Zaragoza.
- C. de ida Pamplona – Sevilla.
- D. de ida y vuelta Zaragoza – Sevilla.

20. ¿Qué información aporta el texto además de los datos del viaje?

- A. Un descuento del 50% en la compra de un coche o moto.
- B. Un seguro de coche y moto y tarjetas de crédito de Renfe.
- C. Un descuento de 1300 euros en el seguro de tu coche o moto.
- D. Tarjetas de descuento de Renfe y un seguro de vida.

21. ¿Qué significan las siglas S.O.V.?

- A. Seguro Optativo de Viajeros.
- B. Seguro Optimo de Viajeros.
- C. Seguro Obligatorio de Viajeros.
- D. Seguro Opcional de Viajeros.

22. Indica si los siguientes enunciados son verdaderos o falsos (V o F) según los datos del billete.

	V	F
En el primer trayecto el viajero puede ocupar cualquier asiento.		
Con este billete se tiene prioridad en el embarque.		
Se debe guardar el billete hasta el final del viaje.		
Este billete no contempla la devolución de dinero en caso de retraso del tren.		

23. Indica si son verdaderos o falsos (V o F) los siguientes enunciados relacionados con el equipaje.

	V	F
En el tren AVE se tiene que llevar la bicicleta en una funda.		
Se puede llevar como equipaje de mano todos los bultos necesarios con tal de que el peso de los mismos no supere los 25 kg.		
Un bebé puede viajar dentro de su coche o silla.		
Si se viaja con una tabla de surf, solo se pueden llevar dos bultos de equipaje de mano.		

24. ¿A qué teléfono se debe llamar si se quieren conocer los beneficios de las tarjetas de Renfe?

.....



Continúa en la siguiente página

CORAZÓN FRONTERA

Abres una puerta frente a ti que da al infinito.
Es entonces cuando palidecen
los límites del orbe.

Volamos en un avión con dirección al naciente.
Asomados a la ventanilla vemos
caer el sol
como una moneda que incendia
un campo de nubes aprisionadas.

Y te digo
que nada existe si tú no me piensas.

El suelo del mundo
es un hormigueo de luces anónimas,
nerviosas y parpadeantes.

Me acerco hasta los bordes de la memoria
mientras aterriza este avión
un extraño y veloz animal
contra el horizonte rojo de raíces en llamas.



Jesús Losada, "Corazón frontera".

25. Selecciona el enunciado del tema que mejor corresponde con el poema.

- A. Tú y yo en un avión cargado de personas anónimas.
- B. Tú y yo en un avión que vuela hacia un incendio.
- C. Declaración de amor en un avión.
- D. Declaración de intenciones en un vuelo transcontinental.

26. Indica si los siguientes enunciados son verdaderos (V) o falsos (F).

	V	F
En el poema se dice que el avión vuela con dirección al oeste.		
Por la ventanilla se ve cómo amanece.		
Se ven las luces que se encienden y se apagan.		
El tiempo en el que se desarrolla este poema coincide con el trayecto de un vuelo.		

27. El poema empieza con "Abres una puerta frente a ti que da al infinito" y la estrofa final dice "Me acerco hasta los bordes de la memoria". ¿Qué opción es la que mejor interpreta estos dos versos?

- A. Tú miras al futuro, yo miro al pasado.
- B. Tú cruzas una puerta, yo me asomo al borde.
- C. Para ti el mundo tiene sus límites, para mí la memoria es ilimitada.
- D. Las dos personas del poema sienten lo mismo.

28. En este poema aparecen términos, nombres que son comparados o identificados con otros. Completa la siguiente tabla según corresponda.

<i>Término / Nombre</i>	<i>Con lo que es comparado</i>
	Moneda
Suelo del mundo	
	Extraño y veloz animal
Horizonte rojo	

