
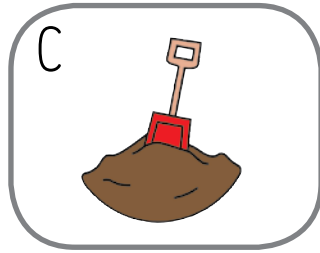




1 Escribe los nombres de los elementos de la naturaleza.



A. _____

C. _____

B. _____

D. _____

2 Dibuja dos seres vivos que formen parte de cada uno de estos medios.

Mar

Ciudad

Bosque



3 Copia los nombres de estos medios en su lugar.

Desierto

Ciudad

Polo

Mar




4 Dibuja la cadena alimentaria que indica el texto.

En esta pradera, las hierbas viven de la tierra,
del agua, del aire y del sol.

Los conejos comen hierba.

Las águilas se alimentan de conejos.

5 Escribe los nombres de estos animales en su lugar.



cerdo



oca



mariposa



ballena



gato



lagarto

Domésticos

Salvajes

6 Relaciona.



vaca

atún



pino



olivo

Silvestre

Doméstico

Salvaje

Cultivada



7 Relaciona daños y soluciones.

Daños

Soluciones

