

1 Escribe el nombre de cada máquina en su lugar.



Simples

Compuestas

2 Observa. ¿Qué acción se representa? Marca.



– Enroscar o desenroscar.

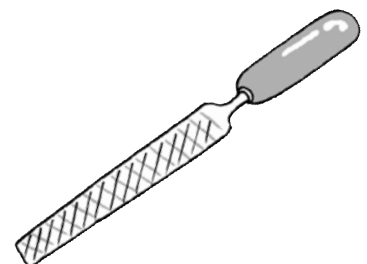

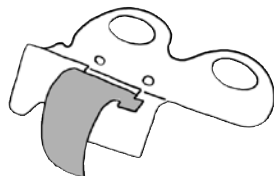
– Perforar.

– Girar y cerrar.

3 Colorea estas máquinas según el código:

Verde → Utilizan la fuerza humana.

Rojo → Utilizan la electricidad.



8 Ordena estas máquinas para escribir, desde la más antigua a la más moderna.







9 Escribe el nombre de una máquina que nos ayuda a hacer cada una de estas tareas.

Lavar

Conservar alimentos

Transportar
objetos o personas

10 Escribe los nombres de las partes del ordenador que se señalan en la imagen.

