



1 Completa.




+



+



+



+



7 Nombre y apellidos: _____

2 Escribe los números en el lugar correspondiente.

94

58

81

97

39

85

28

19

69

80

96

78

Tienen 9 decenas.

Terminan en 9.

Tienen 8 decenas.

Terminan en 8.

3 Rodea el número mayor en cada caso.

78 57

34 45

90 60

28 82

59 51

65 68

1 Coloca los números y resta.

$$76 - 25$$

	D	U
-		
<hr/>		

$$89 - 42$$

	D	U
-		
<hr/>		

$$66 - 13$$

	D	U
-		
<hr/>		

$$54 - 11$$

	D	U
-		
<hr/>		

$$35 - 22$$

	D	U
-		
<hr/>		

$$98 - 63$$

	D	U
-		
<hr/>		

$$77 - 52$$

	D	U
-		
<hr/>		

$$46 - 33$$

	D	U
-		
<hr/>		

2 Realiza estas restas. Después, colorea los resultados que tengan 4 decenas.

$$\begin{array}{r} 86 \\ -42 \\ \hline \square \end{array}$$

$$\begin{array}{r} 99 \\ -66 \\ \hline \square \end{array}$$

$$\begin{array}{r} 75 \\ -33 \\ \hline \square \end{array}$$

$$\begin{array}{r} 62 \\ -41 \\ \hline \square \end{array}$$

$$\begin{array}{r} 58 \\ -35 \\ \hline \square \end{array}$$

$$\begin{array}{r} 47 \\ -26 \\ \hline \square \end{array}$$

$$\begin{array}{r} 94 \\ -52 \\ \hline \square \end{array}$$

$$\begin{array}{r} 83 \\ -20 \\ \hline \square \end{array}$$