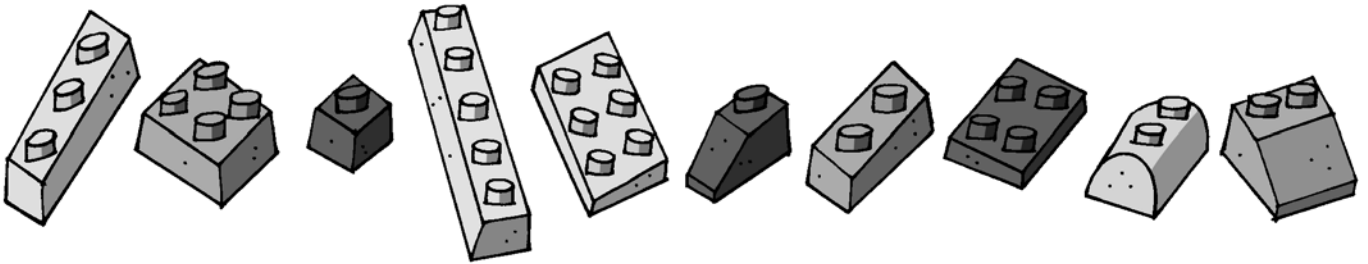
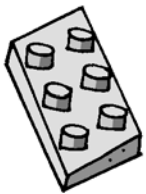


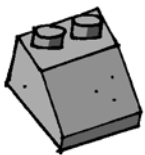
1 ¿Qué lugar ocupa cada figura en la fila? Escríbelo.

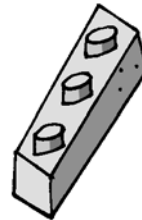


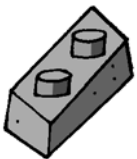
1									
---	--	--	--	--	--	--	--	--	--













2 Coloca y resuelve.

$12 + 13 + 44$

$30 + 25 + 11$

$51 + 32 + 6$

$42 + 10 + 36$

3 Resuelve estas sumas.

$$\begin{array}{r} \text{○} \\ 35 \\ 35 \\ + 22 \\ \hline \square \end{array}$$

$$\begin{array}{r} \text{○} \\ 6 \\ 55 \\ + 30 \\ \hline \square \end{array}$$


$$\begin{array}{r} \text{○} \\ 52 \\ 16 \\ + 16 \\ \hline \square \end{array}$$

$$\begin{array}{r} \text{○} \\ 17 \\ 22 \\ + 25 \\ \hline \square \end{array}$$

4 ¿Cuánto dinero hay en cada caso?



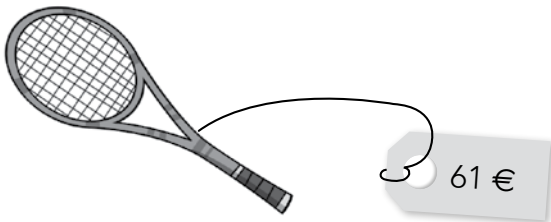
euros y céntimos



euros y céntimos

5 En la tienda de deportes han cambiado los precios. Calcula los nuevos precios.

- Si una raqueta cuesta 12 euros más, ¿cuál es su precio ahora?



$$\square \text{ ○ } \square = \square$$

► Su precio es euros.

- Si las zapatillas cuestan 7 euros menos, ¿cuál es su precio ahora?



$$\square \text{ ○ } \square = \square$$

► Su precio es euros.