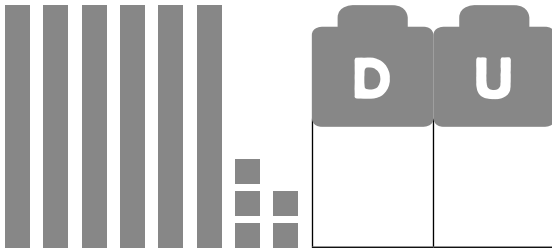
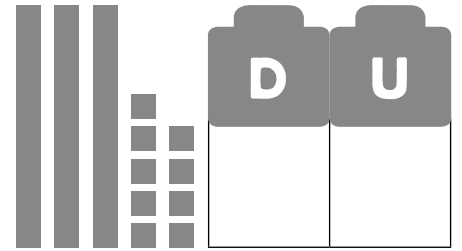


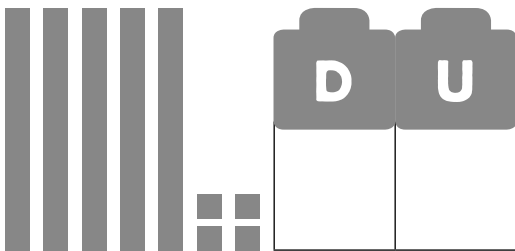
1 Completa.



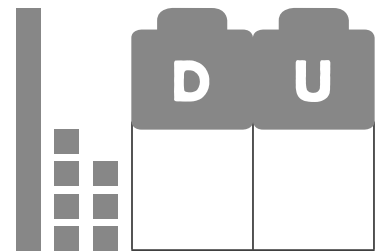
$$\square + \square = \square$$



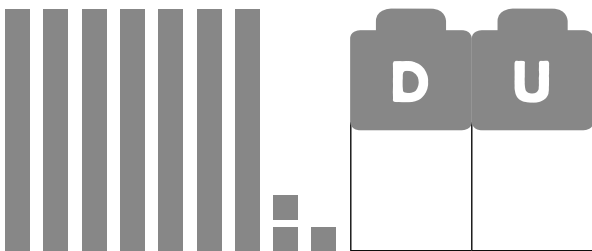
$$\square + \square = \square$$



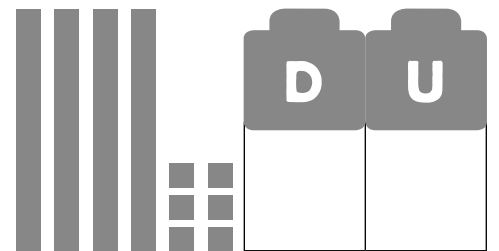
$$\square + \square = \square$$



$$\square + \square = \square$$



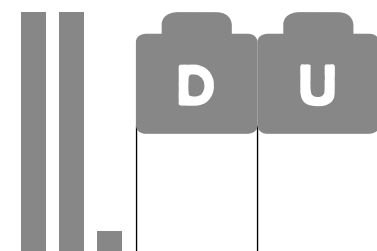
$$\square + \square = \square$$



$$\square + \square = \square$$



$$\square + \square = \square$$



$$\square + \square = \square$$

8 Nombre y apellidos: \_\_\_\_\_

2 Lee y escribe.

Los números menores que 99 que tengan 7 decenas.

--	--	--	--	--	--	--	--	--	--

Los números menores que 99 que terminan en 5.

--	--	--	--	--	--	--	--	--	--

Los números que están entre el 53 y el 64.

--	--	--	--	--	--	--	--	--	--

Los números que están entre el 18 y el 29.

--	--	--	--	--	--	--	--	--	--

3 Colorea de rojo la cantidad mayor y de azul la menor.

setenta y cinco

$30 + 8$

veintisiete

6 D y 5 U

8 D

$20 + 9$

1 Compara y escribe  $>$  o  $<$ .

$24 \bigcirc 34$

$78 \bigcirc 18$

$25 \bigcirc 35$

$76 \bigcirc 67$

$32 \bigcirc 23$

$56 \bigcirc 65$

2 Ordena estos números de menor a mayor.



$\square < \square < \square < \square < \square$



$\square < \square < \square < \square < \square$

3 Ordena estos números de mayor a menor.



$\square > \square > \square > \square > \square$



$\square > \square > \square > \square > \square$