

1 Realiza estas sumas.

$$2 + 8 + 5 = \square$$

$$5 + 6 + 4 = \square$$

$$\begin{array}{r} 1 \\ 9 \\ + 4 \\ \hline \square \end{array}$$

$$\begin{array}{r} 2 \\ 7 \\ + 3 \\ \hline \square \end{array}$$

$$\begin{array}{r} 8 \\ 2 \\ + 5 \\ \hline \square \end{array}$$

$$\begin{array}{r} 4 \\ 9 \\ + 6 \\ \hline \square \end{array}$$

2 Coloca y resuelve.

$83 + 14$

$33 + 48$

$57 + 37$

$24 + 49$

3 ¿Cuántos cromos les quedan?

Tenía 87 cromos,
pero he perdido 16.



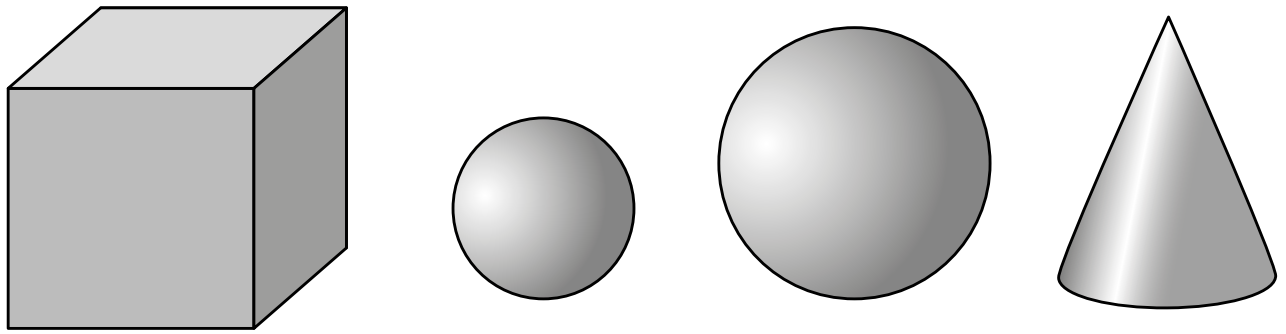
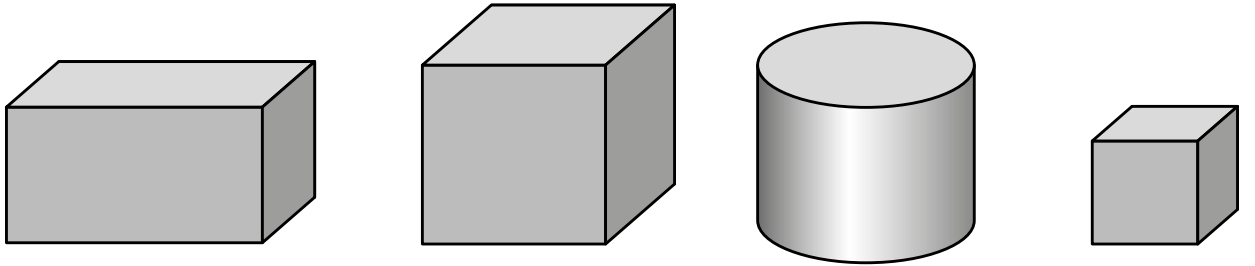
► Le quedan cromos.

Tenía 65 cromos,
pero he regalado 21.



► Le quedan cromos.


4 Rodea los cubos de rojo, las esferas de azul y completa.



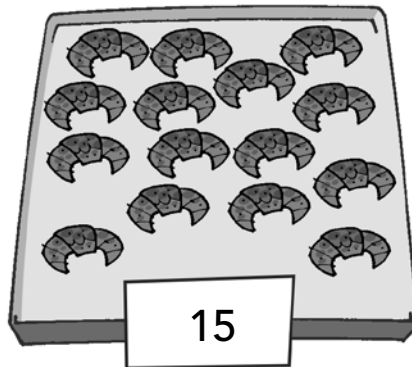
Hay cubos.

Hay esferas.

6 ¿Cuántas magdalenas hay en total?



18



15



22

Hay magdalenas de un sabor.

Hay magdalenas de otro sabor.

► En total hay magdalenas.
