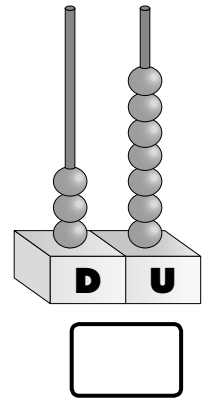
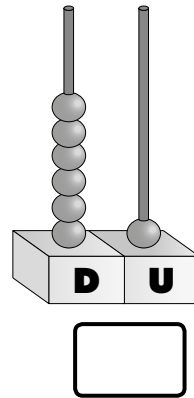
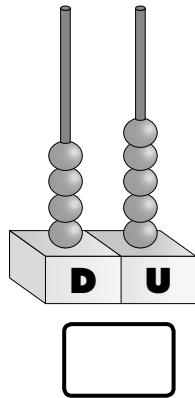
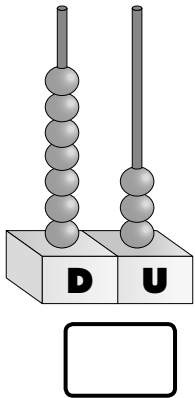


1 Escribe los números que representan estos ábacos.



Escribe el número mayor y el número menor.

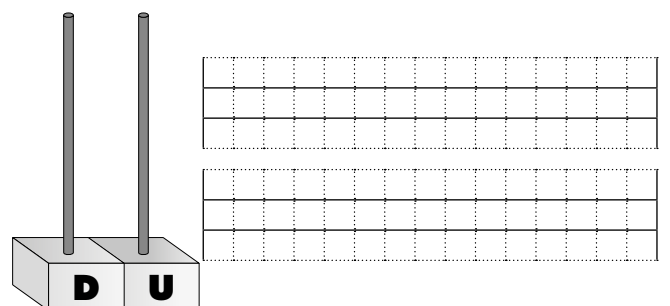
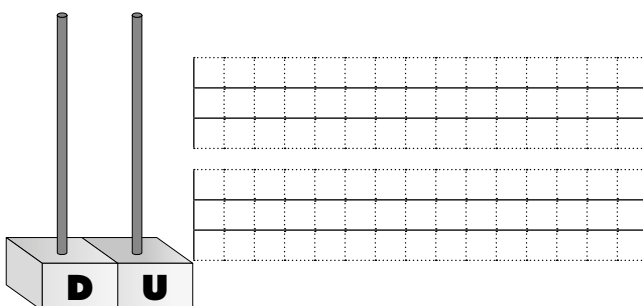
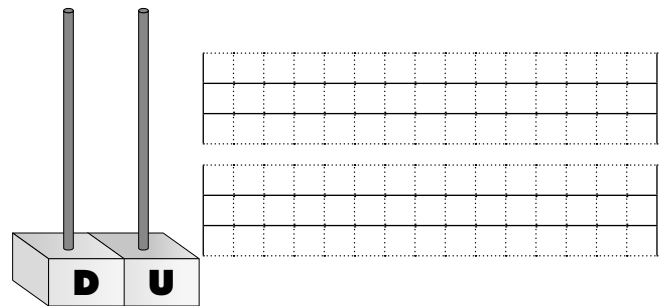
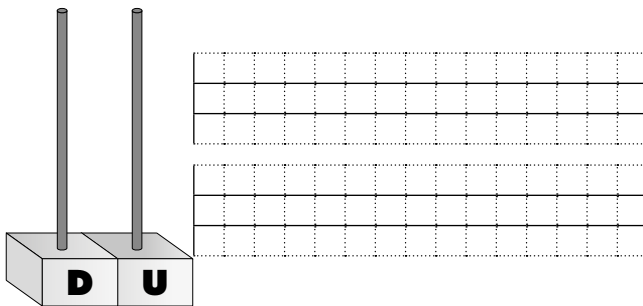
2 Representa estos números en los ábacos y escribe sus nombres.

64

31

86

93



1 Resuelve estos problemas.

- María se quiere hacer un collar de bolas azules y blancas. Si tiene 26 bolas azules y 12 bolas blancas, ¿cuántas bolas tendrá el collar?

Datos

Bolas azules: Bolas blancas:

Solución

► El collar tendrá bolas.

Operación

- Raúl tiene un bote con 56 canicas y su abuela le regala una caja con 35 canicas. ¿Cuántas canicas tiene Raúl?

Datos

Bote: canicas.

Caja: canicas.

Solución

► Raúl tiene canicas.

Operación

- Belén tiene que colocar 37 cajas. Si ya ha colocado 11, ¿cuántas cajas le quedan por colocar?

Datos

Tiene que colocar cajas.

Ha colocado cajas.

Solución

► Le quedan cajas por colocar.

Operación
